



وزارة التربية

إدارة الشؤون التعليمية

مراقبة الامتحانات وشؤون الطلبة

نموذج الإجابة

المرحلة المتوسطة

الدور الثاني (كامل المنهج)

المادة : الاجتماعيات

الصف : السابع

العام الدراسي

2016 / 2015

منطقة مبارك الكبير التعليمية

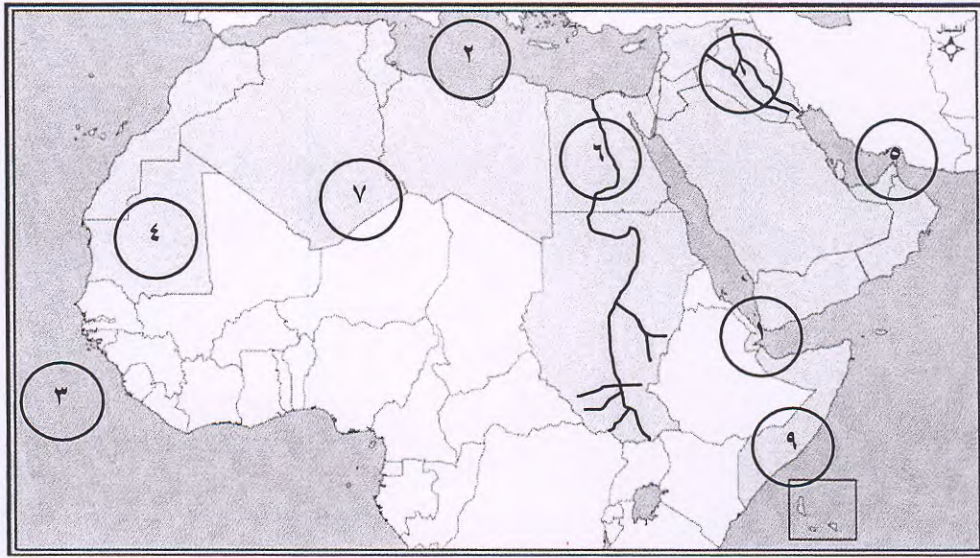


اختبار مادة الاجتماعيات
للفيف السابع (منهج كامل)

منطقة مبارك الكبير التعليمية
التوجيه الفني للاجتماعيات

السؤال الأول : موضوعي ويتكون من (أ - ب - ج)

(أ) أمامك خريطة الوطن العربي الصماء نفذ المطلوب مما يليها : ص ٢١ - ٢٨ - ٥٨ - ٩٢



- مضيق باب المندب على الخريطة يمثلته الرقم ١ ص ٢١

- مرتفعات الأحجار على الخريطة يمثلها على الخريطة الرقم ٧ ص ٢٨

- حضارة بلاد الرافدين يمثلها على الخريطة الرقم ٨ ص ٥٨

- الدولة الأولى في امتلاك وتربية الإبل على الخريطة يمثلها الرقم ٩ ص ٩٢

ب) أكمل العبارات التالية بما يناسبها فيما درست :

١) الدولة الأكثر إنتاجاً للمياه المحلاة من البحر تسمى الكويت ص ١٢٧

٢) أول هرم تم بناءه في الحضارة المصرية القديمة يسمى هرم سقارة المدرج ص ٥٦

٣) موقع الدولة بالنسبة لليابسة والماء يسمى الموقع النسبي ص ٢٣

ج) ضع خطاً تحت العنصر المناسب من بين الخيارات التي تلي كل عبارة :

١- أعلن قيام مجلس التعاون الخليجي عام ١٩٨١ في مدينة : (أبوظبي) ص ١٤٢

٢- اخترع السومريون نوعاً من الكتابة عرفت باسم : (المسمارية) ص ٦٠

٣- تأسس الصندوق الكويتي في عهد الشيخ عبد الله السالم عام ١٩٦١ بفكرة من الشيخ : ص ١٤٤

(جابر الأحمد الصباح)

السؤال الثاني : موضوعي ويتكون من (أ - ب - ج - د)

(أ) اختر من المجموعة (أ) ما يناسبها من المجموعة (ب) بوضع الرقم المناسب بين الأقواس :

م	المجموعة (أ)	الرقم المناسب	المجموعة (ب)
١	الجبل الأخضر ص ١٢٨	(٣)	مصر
٢	جبال مرة ص ١٢٨	(٤)	العراق
٣	قناة السويس ص ٢١	(١)	سلطنة عُمان
٤	سهول دجلة والفرات ص ٣١	(-)	دولة الكويت
		(٢)	السودان

(ب) صنف الصناعات التالية كلاسب النوع الذي ينتمي له في الدول الذي أمامك :

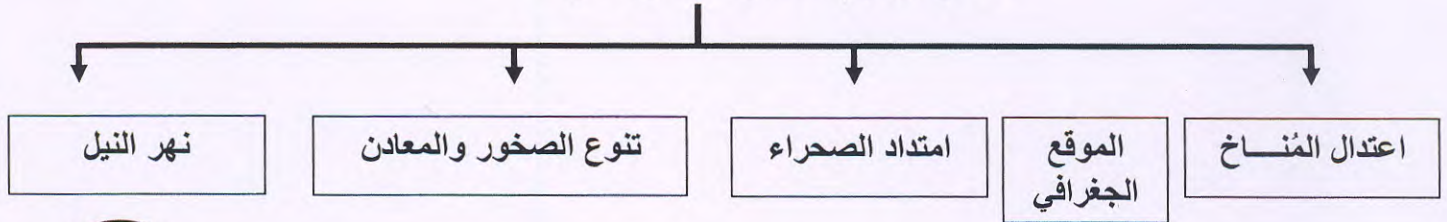
١٠٨ - ١١١

تجميع قطع السيارات - الفخار - الملابس و الورق - صفائح النحاس

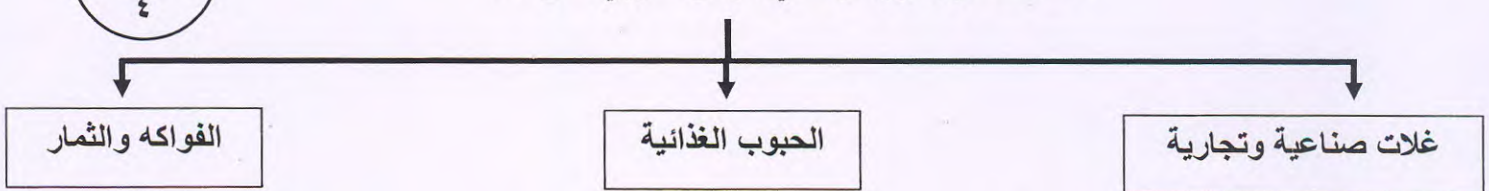
التحويلية	التجميعية	المعدنية	الحرفية
الملابس و الورق	تجميع قطع السيارات	صفائح النحاس	الفخار

(ج) أكمل المخططات السهمية التالية :

١- عوامل قيام الحضارة المصرية ص ٥٤



٢- المحاصيل الزراعية في الوطن العربي ص ٨٤

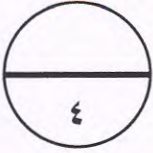


(د) صحح ما تحته خط بوضع الاجابة الصحيحة بين الأقواس :

(١) الدولة العربية التي استضافت مؤتمر القمة العربية الاقتصادية عام ٢٠٠٩م هي قطر (الكويت) ص ١٤٦

(٢) أشهر السدود التي بناها سكان حضارة جنوب غرب شبه الجزيرة العربية هو سد العالي (مأرب) ص ٦٤

(٣) حالة الجو في مكان ما لمدة قصيرة يعرف بـ المناخ (الطقس) ص ٣٣




السؤال الثالث : مقالتي ويتكون من (أ - ب - ج)
أ) قارن بين كلا من خطوط الطول و دوائر العرض طبقا للجدول التالي : ص ٢٢

المعيار	خطوط الطول	دوائر العرض
خط الأساس	غرينتش	الاستواء
الأهمية	معرفة التوقيت الزمني	معرفة أحوال مناخ العالم



ب) عرف المفاهيم التالية :

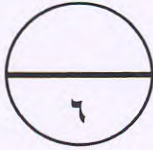
- (١) احصاء حيوي : تسجيل المواليد والوفيات وحالات الزواج والطلاق ص ٧٣
(٢) حضارة : كل ما يطرأ على المجتمع من تطور وتقدم ورقي في جميع جوانب الحياة الدينية والاقتصادية .. ص ٥١



(٣) تلوث : هو الضرر الذي يلحق بالتربة والهواء والماء ص ١٣٠

(٤) صادرات : السلع التي تنقل من دولة إلى دولة أخرى ص ١١٧

ج) علل لما يأتي (أذكر السبب) :



(١) تنافست الدول الاستعمارية في الاستيلاء على الوطن العربي منذ القرن ١٨ م .
نظرا لأهمية موقع الوطن العربي الاستراتيجي ص ٢٤

(٢) يتمتع النفط العربي بمكانة مهمة على المستوى العالمي .

- ضخامة الإنتاج وتزايد باستمرار - الموقع الاستراتيجي لحقول النفط وقربها من الأسواق
- انخفاض تكلفة إنتاج البرميل الواحد - ارتفاع نسبة احتياطي النفط واستمرار نموه ص ١٠٠

(٣) حرصوا المصريون القدماء على تحنيط جثث موتاهم واهتموا ببناء القبور والمعابد

• لاعتقادهم بالبعث والخلود ص ٥٥

(٤) تدني وفرة المياه في الوطن العربي .





- النمو السكاني السريع - نصف الموارد المائية تأتي من خارج الوطن العربي
- الطرق التقليدية المستخدمة في استغلال المياه - الشبكات المؤهلة لنقل المياه قديمة - عدم وجود برامج لإدارة المياه ص ١٢٦

(٥) عرف سكان بلاد الرافدين الزراعة .

• خصوبة التربة وسعة سهولها ووفرة مياهها ص ٥٩

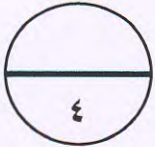
السؤال الرابع مقالتي : ويتكون من (أ - ب)

(أ) لاحظ الرسوم البيانية التي أمامك ثم أجب :



- الأسواق التي تحتل المكانة الأولى بالنسبة لتجارة الواردات العربية هي الأوروبية ص 117
- نسبة الصادرات بين الدول العربية تبلغ 8 %
- نسبة الواردات بين الدول العربية تبلغ 7.4 %
- الأسواق التي تحتل المكانة الأولى بالنسبة لتجارة الصادرات العربية هي الأوروبية

(ب) أجب في نقطتين فيما يلي :



- (1) العوامل التي تؤثر في مناخ الوطن العربي . ص 34
 - الموقع بالنسبة لدوائر العرض - القرب أو البعد عن المسطحات المائية
 - التضاريس - الرياح
- (2) مراكز الإشعاع التي انتقلت منها الحضارة الإسلامية إلى أوروبا .
 - بلاد الأندلس - جزيرة صقلية
 - بلاد الشام ص 69

(ج) أقرأ الفقرة التي أمامك ثم أجب عن الأسئلة التي تليها :

" المجتمعات لا يمكن أن تتقدم أو تنمو اقتصاديا أو سياسيا أو اجتماعيا بدون إعداد القوة البشرية فمن أهداف التنمية البشرية توفير فرص العمل والرعاية الصحية والقضاء على الفقر .



- 1- أذكر هدف من أهداف التنمية البشرية . ص 137
توفير فرص العمل والرعاية الصحية والقضاء على الفقر (من الفقرة)
- 2- أذكر مشكلة من المشكلات التي تواجه التنمية البشرية .
 - الأمية - نقص مشاركة المرأة - ضعف الاستفادة من القدرات البشرية
 - الاختلاف الكبير في مستويات المعيشة بين دولة و أخرى